



SECRETARIA MUNICIPAL DE EDUCAÇÃO
DE ATÍLIO VIVACQUA

ATIVIDADES NÃO PRESENCIAIS EDUCAÇÃO ESPECIAL - 2021

PERÍODO: 31/05 A 11/06/2021
1º AO 5º ANO

ESCOLA: _____

TURMA: _____ TURNO: _____

ALUNO: _____





É HORA DAS ATIVIDADES

SENHORES PAIS OU RESPONSÁVEIS,

**AS ATIVIDADES DESSE PERÍODO
APRESENTAM CONTEÚDOS DE
LEITURA, INTERPRETAÇÃO,
MEDIDAS DE TEMPO - RELÓGIO,
ADIÇÃO, ORDEM CRESCENTE E
DECRESCENTE, EMOÇÕES
E ATIVIDADES DE
COORDENAÇÃO MOTORA.**

**CONTO COM A PARCERIA
DA FAMÍLIA PARA
AUXILIAR NOSSO(A) ALUNO(A) PARA
REALIZAR AS ATIVIDADES.
ELE PODE PRECISAR QUE VOCÊ
AJUDE-O NA LEITURA
OU MESMO SÓ FICANDO AO LADO.**



LEITURA

O RELÓGIO

VINÍCIUS DE MORAES

PASSA TEMPO, TIC TAC
TIC TAC, PASSA HORA
CHEGA LOGO, TIC-TAC
TIC-TAC, E VAI-TE EMBORA

PASSA, TEMPO
BEM DEPRESSA
NÃO ATRASA
NÃO DEMORA
QUE JÁ ESTOU
MUITO CANSADO
JÁ PERDI
TODA A ALEGRIA
DE FAZER
MEU TIC-TAC
DIA E NOITE
NOITE E DIA
TIC-TAC
TIC-TAC
DIA E NOITE
NOITE E DIA



<https://br.pinterest.com/pin/596375175640824852/>

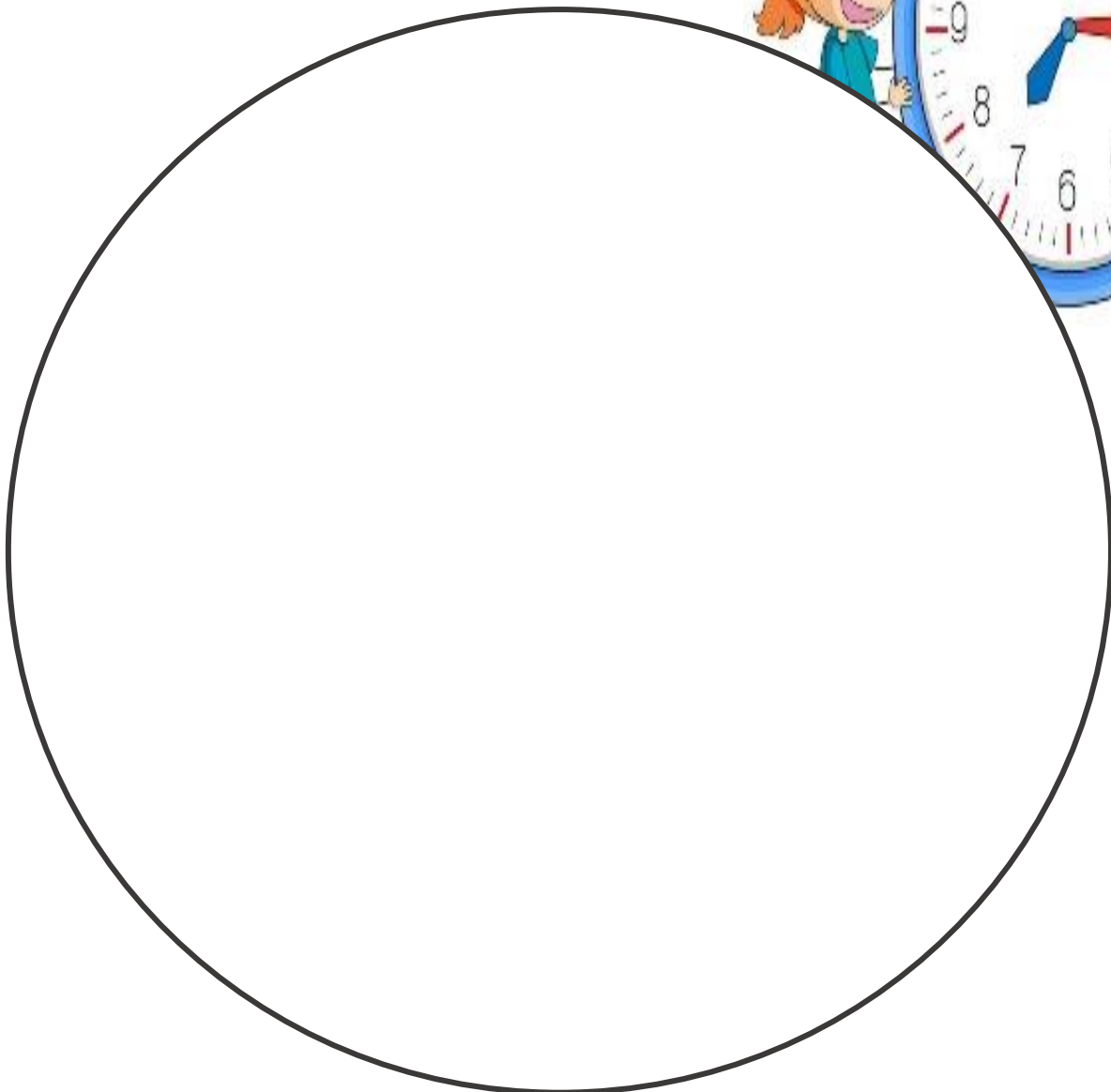


O RELÓGIO É UTILIZADO COMO MEDIDOR DO TEMPO DESDE A ANTIGUIDADE, EM VARIADOS FORMATOS.

É UMA DAS MAIS ANTIGAS INVENÇÕES HUMANAS. RELOJOARIA É TANTO O TERMO QUE DESIGNA O SEU FABRICANTE, COMO A LOJA ONDE SÃO VENDIDOS.

<https://pt.wikipedia.org/wiki/Rel%C3%B3gio>

QUE TAL DESENHAR UM RELÓGIO?



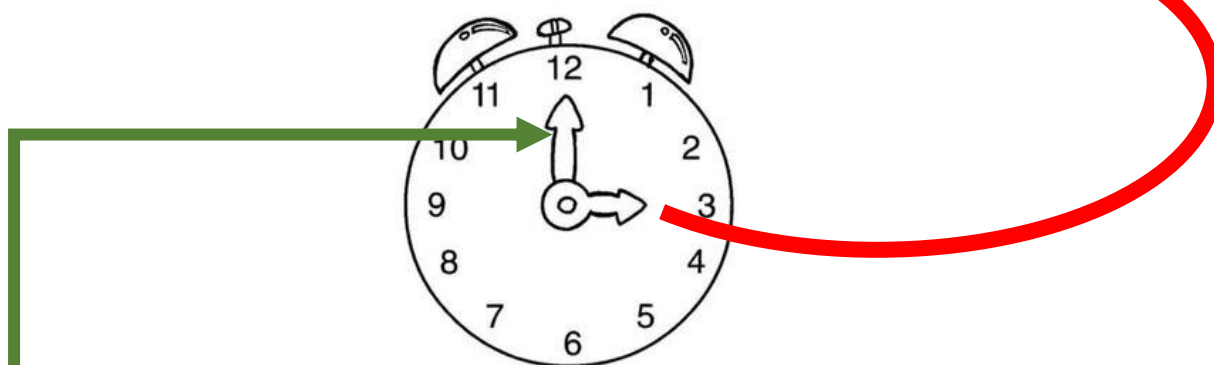
<https://pt.vecteezy.com/arte-vetorial/433577-doodle-menino-e-menina-com-relogio>

MEDIDA DE TEMPO

EM NOSSO DIA A DIA USAMOS VÁRIOS INSTRUMENTOS QUE MARCAM O TEMPO COMO CALENDÁRIO E O RELÓGIO. DESTA VEZ IREMOS ESTUDAR SOBRE O RELÓGIO.

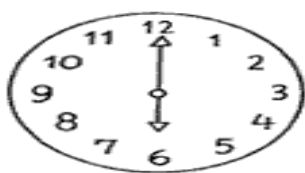
APROVEITE OS MOMENTOS DE ESTUDO E ASSISTA O LINK <https://youtu.be/Oj8Pzhz36dg> E VEJA COMO FUNCIONA O RELÓGIO.

O PONTEIRO MENOR INDICA AS HORAS.



O PONTEIRO MAIOR INDICA OS MINUTOS.

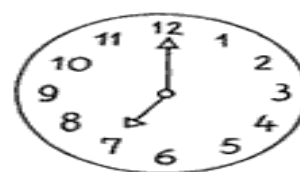
ESCREVA QUANTAS HORAS OS RELÓGIOS ESTÃO MARCANDO.



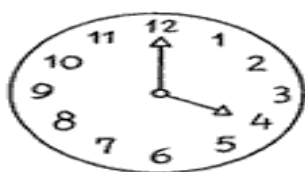
..... horas



..... horas



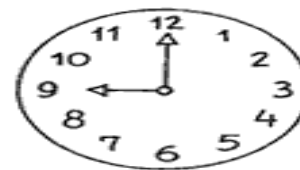
..... horas



..... horas



..... horas



..... horas



ATIVIDADE COMPLEMENTAR



OBSERVE O RELÓGIO E RESPONDA:

- O QUE INDICA O PONTEIRO MAIOR DO RELÓGIO?

- O QUE INDICA O PONTEIRO MENOR DO RELÓGIO?

MARQUE AS HORAS NOS RELÓGIOS DE ACORDO COM A ROTINA APRESENTADA.

EU ACORDO

ÀS HORAS



EU ALMOÇO

ÀS HORAS




EU BRINCO

ÀS HORAS



EU VOU DORMIR

ÀSHORAS



QUANTAS HORAS SÃO?

ESCREVA ABAIXO DE CADA RELÓGIO A HORA MARCADA:

















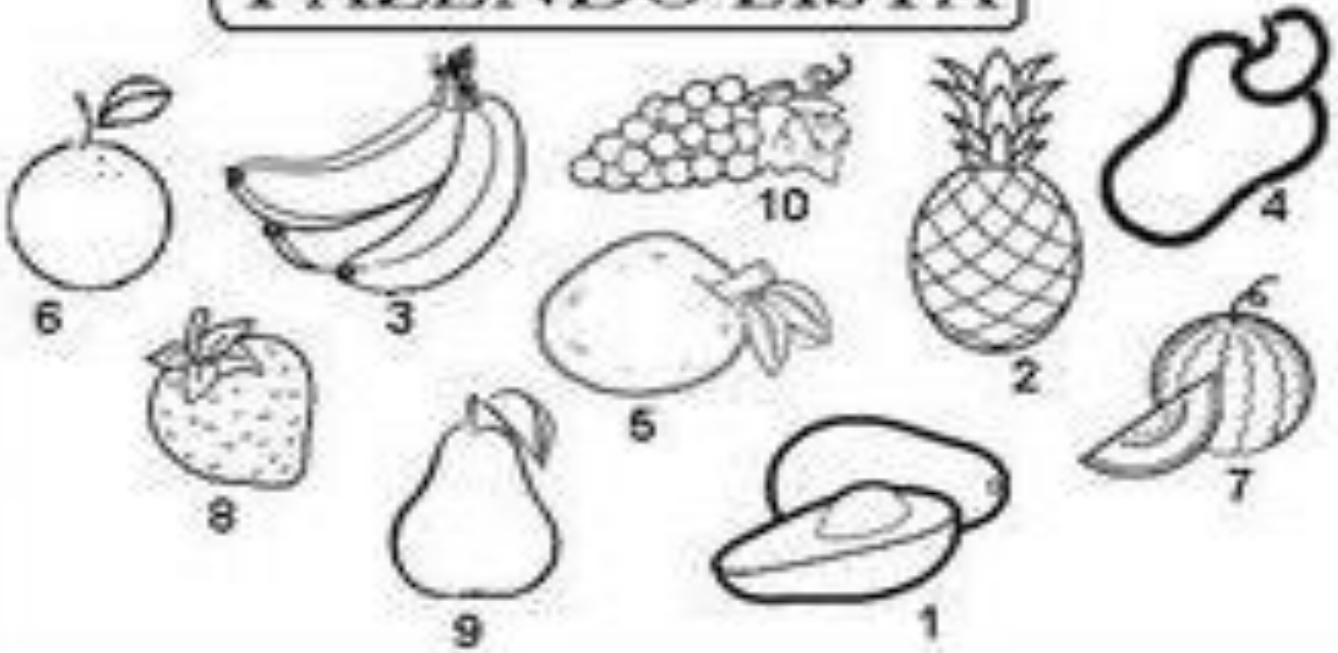






VAMOS CUIDAR DA ALIMENTAÇÃO E COMECE FAZENDO A LISTA DAS FRUTAS ABAIXO DE ACORDO COM OS NUMERAIS.

FAZENDO LISTA



ESCREVA OS NOMES DE TODAS AS FRUTAS:

1- _____	6- _____
2- _____	7- _____
3- _____	8- _____
4- _____	9- _____
5- _____	10- _____



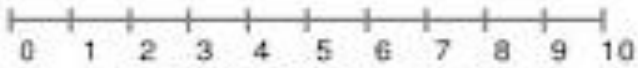
VOCÊ ESCREVEU VÁRIOS NOMES DE FRUTAS, AGORA
ESCOLHA 5 FRUTAS NA ÚLTIMA PÁGINA, RECORTE E
COLE DENTRO DO CARRINHO DE COMPRAS



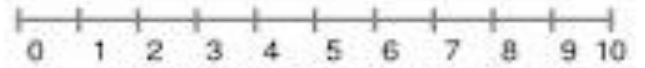
https://www.freepik.com/vetores-premium/bonito-garoto-feliz-comprando-frutas-e-legumes_5708310




VAMOS CALCULAR A ADIÇÃO E ESCREVER O RESULTADO
DENTRO DO



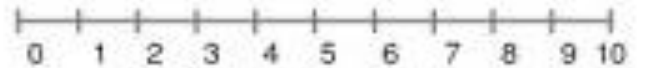
$$5 + 2 = \square$$



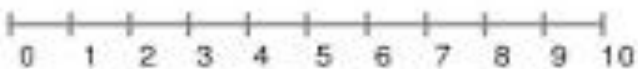
$$3 + 4 = \square$$



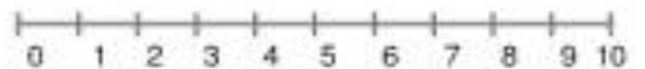
$$2 + 2 = \square$$



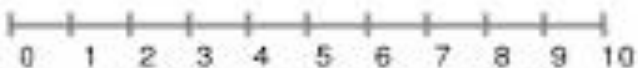
$$5 + 3 = \square$$



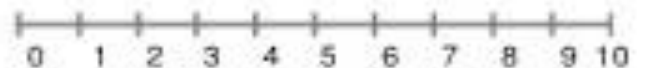
$$1 + 6 = \square$$



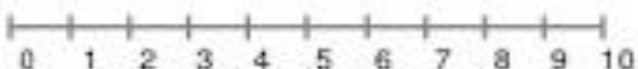
$$2 + 3 = \square$$



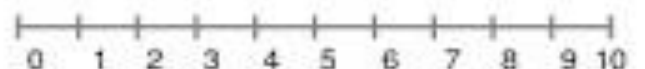
$$5 + 1 = \square$$



$$6 + 2 = \square$$



$$4 + 4 = \square$$



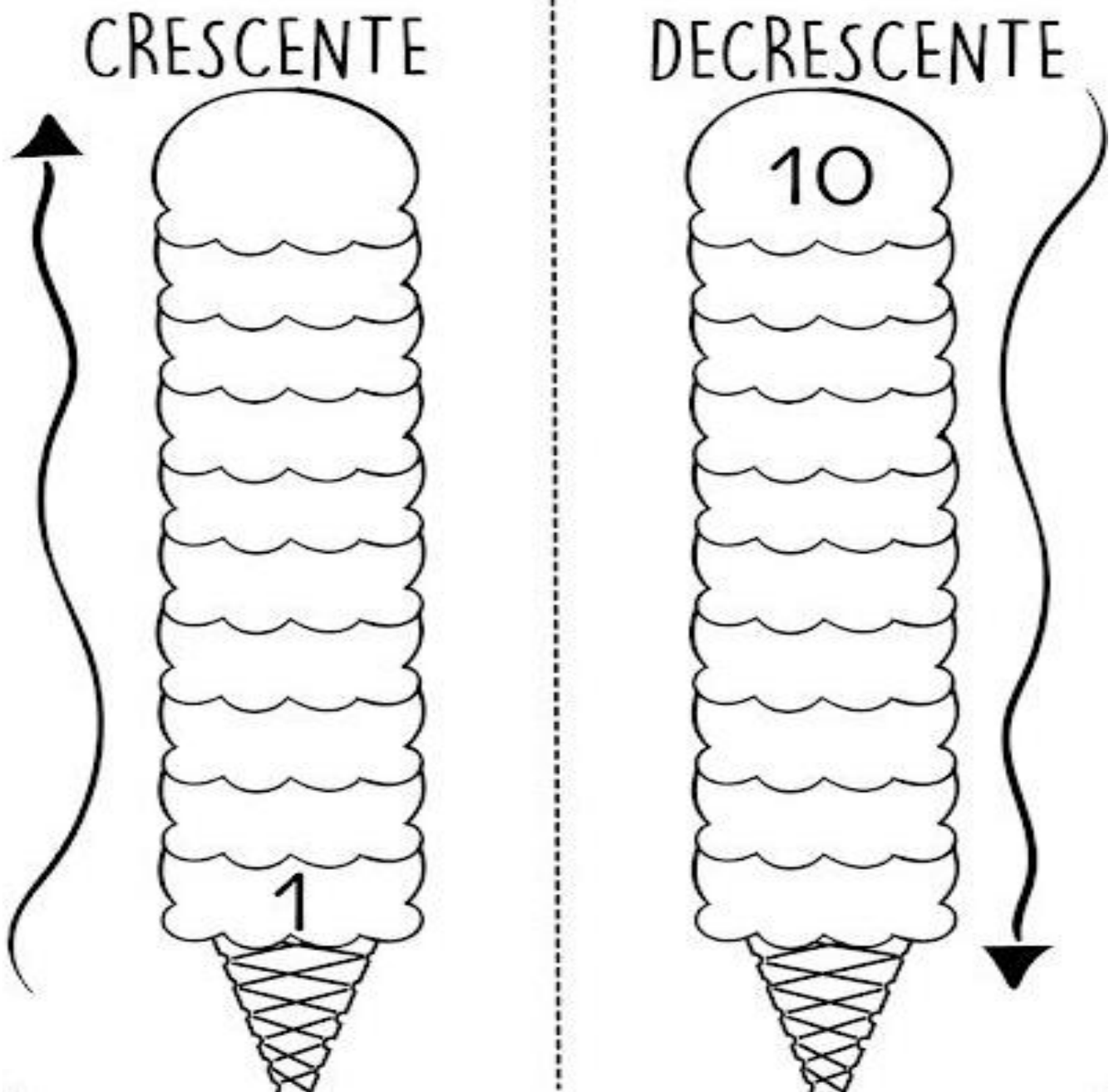
$$7 + 1 = \square$$

**AGORA É HORA DE ESCREVER OS NUMERAIS EM ORDEM
CRESCENTE E DECRESCENTE**

CRESCENTE – 1- 2- 3- 4- 5- 6- 7- 8- 9- 10

DECRESCENTE – 10- 9- 8- 7- 6- 5- 4- 3- 2- 1

1 - NUMERE AS BOLAS DOS SORVETES, SEGUINDO A ORDEM...




HORA DE BRINCAR COM AS EMOÇÕES

ESSES ROSTINHOS DEMONSTRAM AS NOSSAS FEIÇÕES DE ACORDO COM OS NOSSOS SENTIMENTOS, COMO RAIVA, ALEGRIA, TRISTEZA, CANSAÇO E TANTOS OUTROS.

VOCÊ DEVERÁ RECORTAR A PALAVRA E COLÁ-LA NO ROSTINHO CORRESPONDENTE. POR EXEMPLO:

A PALAVRA **ALEGRIA** DEVERÁ SER COLADA ABAIXO DO ROSTINHO QUE PARA VOCÊ DEMONSTRA ALEGRIA

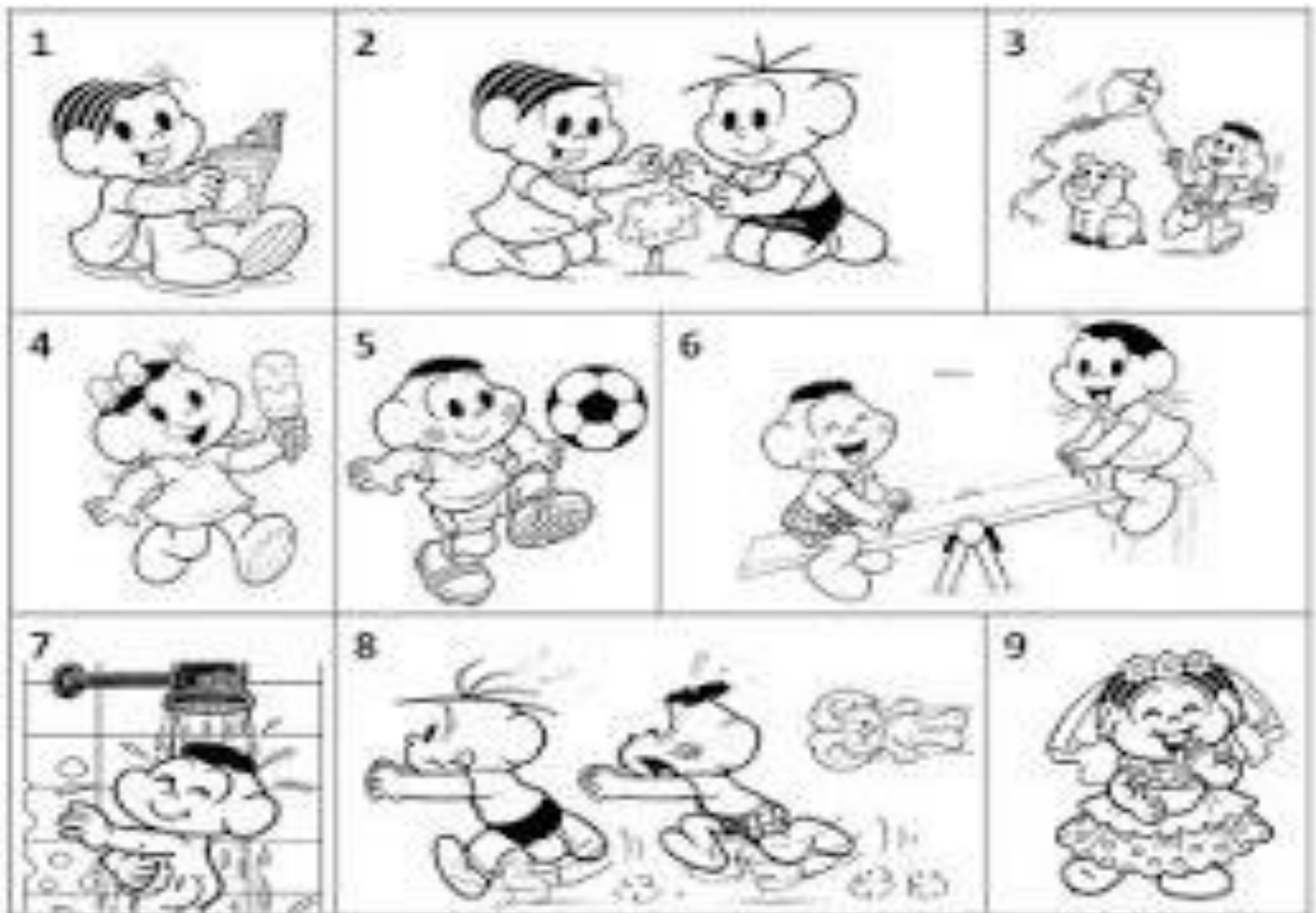


<https://br.pinterest.com/pin/687150855616853499/>

AS PALAVRAS PARA VOCÊ RECORTAR ESTÃO NA ÚLTIMA FOLHA .

RELACIONE UMA FRASE PARA CADA IMAGEM

br.pinterest.com/pin/853432198126263298



() O CASÇÃO E A MAGALI ESTÃO BRINCANDO NA GANGORRA.

() A MÔNICA E O CEBOLINHA PLANTARAM UMA ÁRVORE.

() QUE SURPRESA! O CASÇÃO TOMOU BANHO HOJE.

() A MAGALI COMPROU UM SORVETE ENORME.

() CASÇÃO ADORA SOLTAR PIPA.

() A MÔNICA FOI A NOIVA DA FESTA JUNINA.

() O CEBOLINHA E O CASÇÃO CORRERAM DA MÔNICA.

() A MÔNICA LÊ REVISTINHA TODOS OS DIAS.

() O CASÇÃO É UM ÓTIMO JOGADOR DE FUTEBOL.



ATIVIDADES PARA RECORTAR



ESSAS PALAVRAS ABAIXO SÃO PARA VOCÊ RECORTAR
E COLAR NA FOLHA ANTERIOR, EMBAIXO DAS CARINHAS.

ALEGRIA	TRISTEZA	CALMA	ADMIRAÇÃO
RAIVA	TERNURA	NOJO	CANSAÇO
MEDO	SUSTO	DOR	PREOCUPAÇÃO

<https://br.pinterest.com/pin/687150855616853499/>

RECORTE E COLE AS FRUTAS NO CARRINHO DE
COMPRAS



EDUCA SEMPRE



<https://www.educasempre.com/2018/01/atividades-de-recorte-e-colagem.html>

br.pinterest.com/pin/853432198126263298