



SECRETARIA MUNICIPAL DE EDUCAÇÃO
DE ATÍLIO VIVACQUA

ATIVIDADES NÃO PRESENCIAIS EDUCAÇÃO ESPECIAL - 2021

PERÍODO: 17/05 A 28/05/2021
6º AO 9º ANO

ESCOLA: _____

TURMA: _____ TURNO: _____

ALUNO: _____



CHEGOU A HORA DAS ATIVIDADES!



**EXISTE MOMENTOS
PARA BRINCAR,
PARA VER TV
E AGORA É HORA
DE ESTUDAR!**



SENHORES PAIS OU RESPONSÁVEIS,

PARA QUE NOSSO ALUNO CONSIGA REALIZAR AS ATIVIDADES, É PRECISO QUE ALGUÉM EM CASA PARTICIPE COM ELE DURANTE A REALIZAÇÃO DAS ATIVIDADES.

HAVERÁ ATIVIDADES QUE VOCÊ PRECISARÁ REALIZAR A LEITURA PARA QUE ELE SAIBA O QUE PRECISA FAZER.

CONTAMOS COM SUA PARCERIA!

CONTEÚDOS APRESENTADOS:

APRECIÇÃO ARTE, SERES VIVOS (REINO VEGETAL), FORMAS GEOMÉTRICAS, ASSOCIAÇÃO ENTRE NUMERAL A QUANTIDADE, LEITURA E INTERPRETAÇÃO, IMPORTÂNCIA DA ÁGUA, MAPA DO BRASIL, DAS REGIÕES E DO ESTADO.

VIVENDO ARTE

NA IMAGEM DO QUADRO ABAIXO, “ A CUCA” DE TARSILA DO AMARAL, PERCEBEMOS QUE A PINTORA RETRATA A NATUREZA DE FORMA BEM SINGULAR. AS PLANTAS E ANIMAIS TÊM FORMAS, CORES E TAMANHOS MUITO DIFERENTES UNS DOS OUTROS.



<https://www.infoescola.com/folclore/cuca/>

AGORA QUE VOCÊ OBSERVOU ESCREVA O QUE SE PEDE ABAIXO:

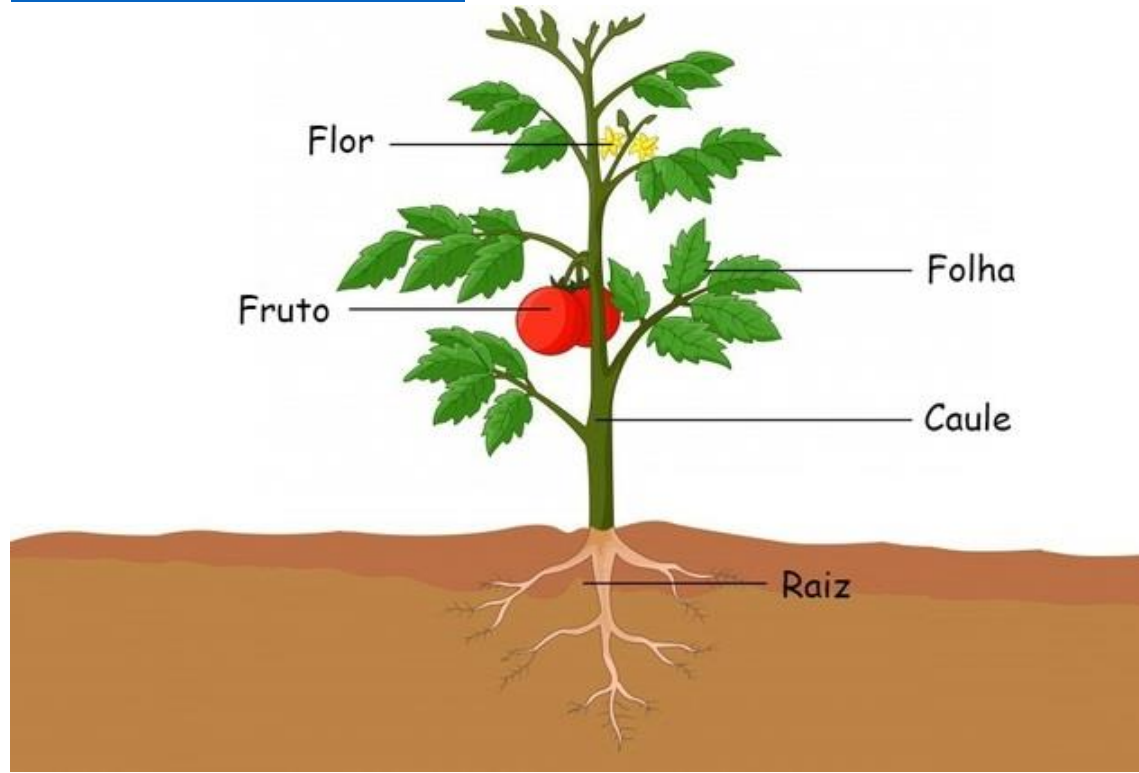
QUANTOS ANIMAIS VOCÊ VÊ NA CENA? _____

ESCREVA OU DESENHE QUAIS ANIMAIS VOCÊ PERCEBEU.

O REINO PLANTAE OU REINO VEGETAL É O GRUPO EM QUE ESTÃO TODAS AS PLANTAS.

NA MAIORIA DAS PLANTAS, OBSERVAMOS A PRESENÇA DE TRÊS ÓRGÃOS VEGETAIS BÁSICOS: **RAIZ, CAULE E FOLHA.**

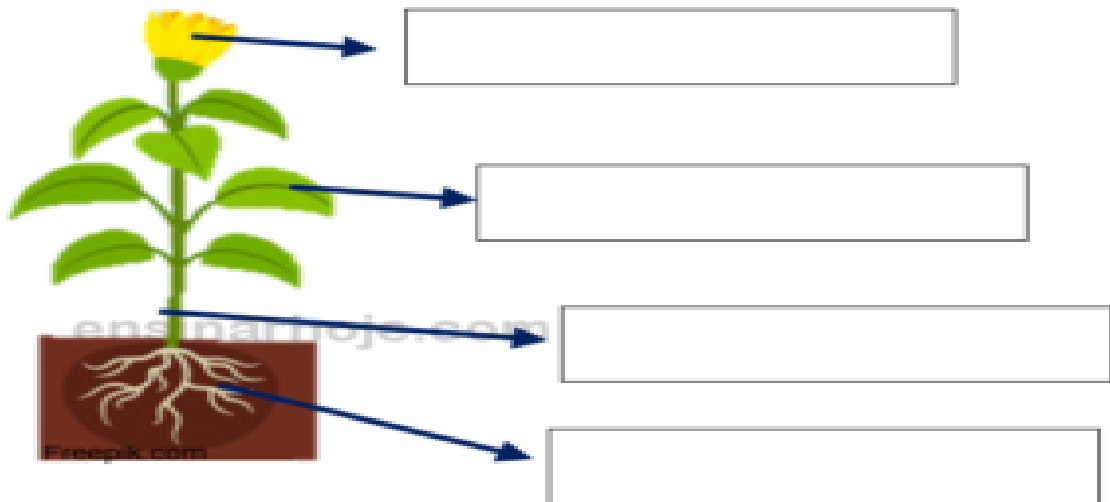
<https://www.todamateria.com.br/partes-da-planta/>



DESENHE NO ESPAÇO ABAIXO UMA PLANTA QUE TENHA RAIZ, CAULE E FOLHAS.

Área reservada para o desenho de uma planta com raiz, caule e folhas.

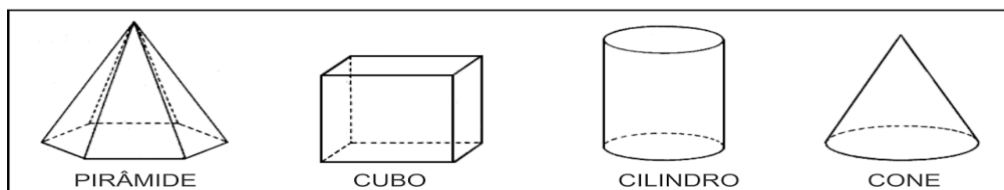
OBSERVE A FIGURA ABAIXO E ESCREVA OS NOMES DE CADA PARTE DA PLANTA.



<https://ensinarhoje.com/2o-ano-as-plantas-texto-e-atividades/>

MATEMATICANDO...










ENCONTRE O NOME DOS SÓLIDOS GEOMÉTRICOS NO CAÇA PALAVRA.




P	I	R	Â	M	I	D	E
C	R	A	H	M	A	Â	Ç
I	Ç	R	C	O	S	T	O
L	L	P	C	V	A	B	N
I	O	X	C	U	B	O	J
N	G	G	R	Â	M	E	O
D	Ç	C	U	B	A	Z	N
R	I	R	O	À	G	E	H
O	E	R	V	C	O	N	E

VAMOS CONTAR E ESCREVER ?

COMPLETE AS PEÇAS DE DOMINÓ DE MODO QUE A SOMA TOTAL SEJA
A MESMA QUE APARECE NO CASCO DA TARTARUGA.




AGORA É DIFERENTE, É PRECISO CALCULAR




$$3 + 3 =$$

$$= 6$$




$$_ + _ =$$

$$= _$$




$$_ + _ =$$

$$= _$$




$$_ + _ =$$

$$= _$$




$$_ + _ =$$

$$= _$$



$$_ + _ =$$

$$= _$$



$$_ + _ =$$

$$= _$$

IMPORTÂNCIA DA ÁGUA PARA OS SERES VIVOS

<https://continuobuscando.blogspot.com/2019/01/a-agua.html>

LEIA O POEMA E CIRCULE TODAS AS PALAVRAS ÁGUA QUE VOCÊ ENCONTRAR.

A ÁGUA

A ÁGUA NÃO TEM CHEIRO,
A ÁGUA NÃO TEM CORES,
DÁ DE BEBER AOS ANIMAIS,
ÀS PESSOAS E ÀS FLORES.

É PRECISA PARA BEBER,
E TAMBÉM PARA LAVAR,
OS PAIS USAM NA COZINHA,
AO ALMOÇO AO JANTAR.

A ÁGUA CORRE NA TORNEIRA,
NO RIO OU NO MAR,
A ÁGUA CORRE BEM DEPRESSA,
OU CORRE MAIS DEVAGAR.

A ÁGUA DO MAR
É MUITO SALGADA.
A ÁGUA DA TORNEIRA
NÃO SABE A NADA.



A ÁGUA PODE ESTAR FRIA
OU ESTAR MAIS QUENTE.
MAS PARA BEBER,
DEVE ESTAR TRANSPARENTE.

A ÁGUA É PRECIOSA,
NÃO A DEVES ESTRAGAR.
É ESSENCIAL À VIDA
TEMOS QUE A PRESERVAR.

MARIA DO ROSÁRIO MACEDO


**A ÁGUA É MUITO IMPORTANTE PARA A NOSSA VIDA.
OBSERVE AS CENAS ABAIXO E MARQUE COM X
AQUELAS QUE AS PESSOAS UTILIZAM ÁGUA.**



()

()

()



()

()

()



()

()

()

DESCUBRA EM
QUAL DOS CANOS A
MÔNICA DEVE PÔR
A ÁGUA PARA REGAR
A FLORZINHA!



DIFERENTES REPRESENTAÇÕES DO ESPAÇO TERRESTRE

OS MAPAS SÃO REPRESENTAÇÕES DO ESPAÇO GEOGRÁFICO ELABORADAS EM UMA SUPERFÍCIE PLANA E EM TAMANHO REDUZIDO.



NELES SÃO REGISTRADAS VÁRIAS CARACTERÍSTICAS DA SUPERFÍCIE TERRESTRE, POR MEIO DE DIFERENTES SÍMBOLOS E OUTROS RECURSOS VISUAIS, COMO ALTITUDE DO RELEVO, TIPOS DE CLIMA E DE VEGETAÇÃO, ESTRADAS E RODOVIAS OU AINDA A DISTRIBUIÇÃO DA POPULAÇÃO POR UM TERRITÓRIO.

OS MAPAS PODEM FORNECER MUITAS INFORMAÇÕES QUE AUXILIAM NA COMPREENSÃO DE FENÔMENOS NATURAIS OU DE INTERVENÇÕES DO SER HUMANO NO ESPAÇO GEOGRÁFICO.

PARA QUE POSSAMOS INTERPRETAR UM MAPA CORRETAMENTE DEVEMOS IDENTIFICAR CADA UM DOS ELEMENTOS QUE CONSTITUEM UMA REPRESENTAÇÃO CARTOGRÁFICA.

NO MAPA DO BRASIL ABAIXO PODEMOS PERCEBER AS CINCO REGIÕES:

REGIÕES BRASILEIRAS



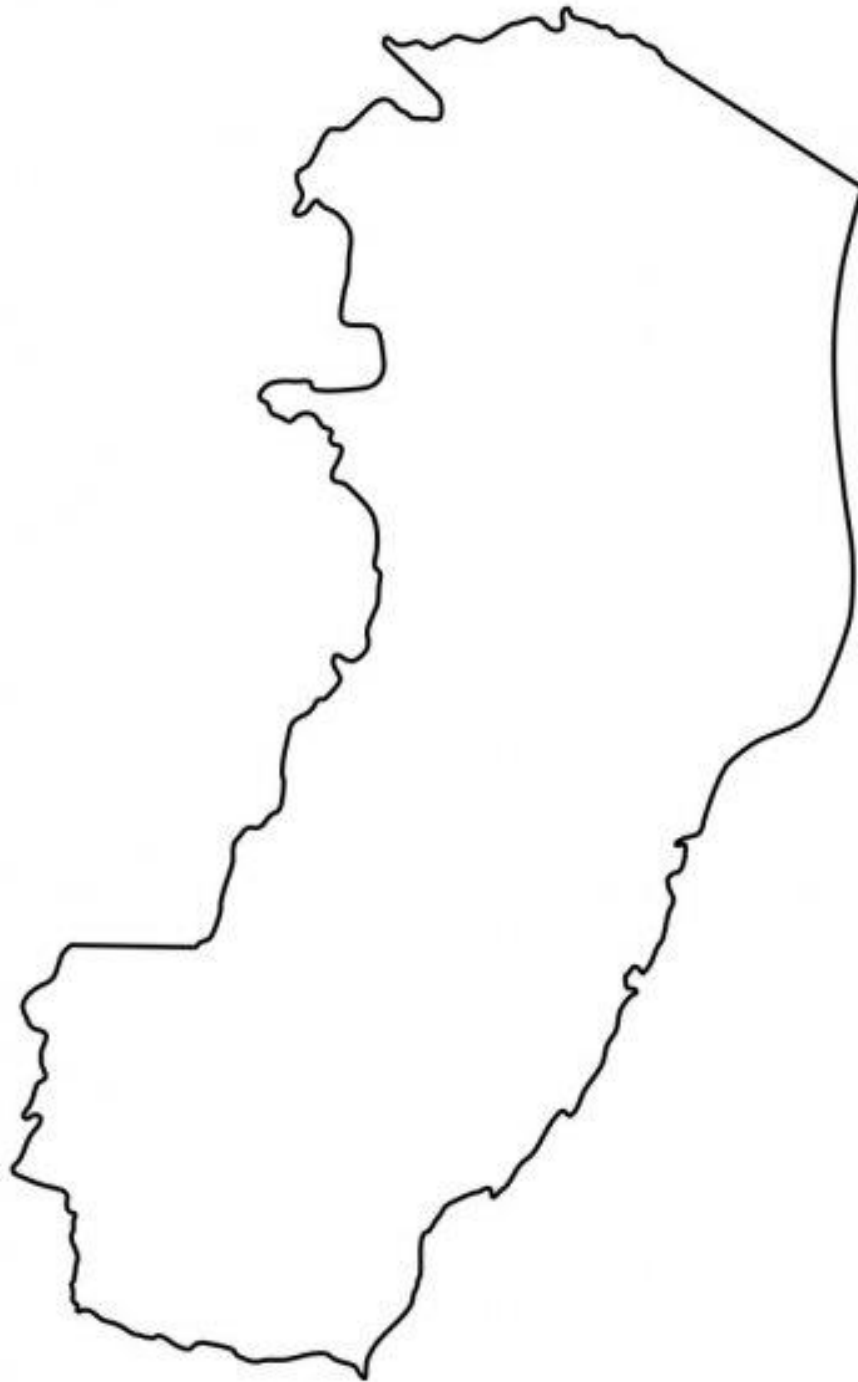
ATÍLIO VIVACQUA É UM MUNICÍPIO QUE PERTENCE A REGIÃO SUDESTE, NO ESTADO DO ESPÍRITO SANTO.

CIRCULE A PARTE CORRESPONDENTE AO NOSSO ESTADO DO ES



MAPA DO ESTADO DO ESPÍRITO SANTO.

ESSA IMAGEM CORRESPONDE AO CONTORNO DO MAPA DO ESPÍRITO SANTO. VOCÊ CONSEGUIU ENCONTRÁ-LO NO MAPA ANTERIOR? ELE É UM DOS MENORES ESTADOS DA REGIÃO SUDESTE. FICA LOGO ACIMA DO ESTADO DO RIO DE JANEIRO.



MAPA DO ESTADO DO ESPÍRITO SANTO COM OS NOMES DO MUNICÍPIOS. ENCONTRE ATÍLIO VIVACQUA E CIRCULE.

Municípios do Espírito Santo,
Divisão Político-Administrativa

santo.htm

[http://www.mapas-brasil.com/espírito-](http://www.mapas-brasil.com/espírito-santo.htm)

Fonte: SEP/IPES

Elaboração:

IPES
INSTITUTO DE APOIO À PESQUISA E AO
DESENVOLVIMENTO JONES DOS SANTOS NEVES

